


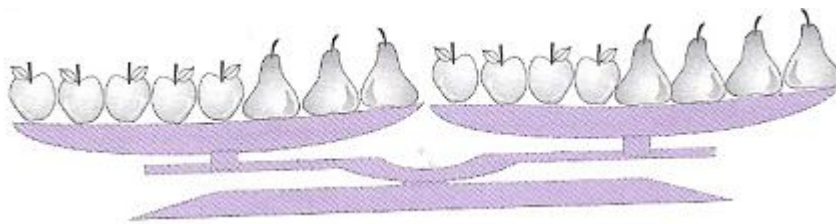
Zestaw III

1. W zawodach brało udział 5 zawodników. Który z nich wygrał?



- Nie wygrał zawodnik z numerem będącym liczbą parzystą.
- Nie wygrał najwyższy zawodnik.
- Zawodnik z numerem 5 przybiegł przed zawodnikiem z numerem 3.

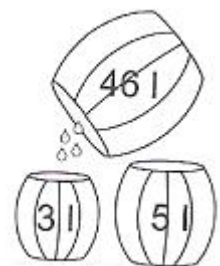
2. Przekupka na targu ważyła jabłka i gruszki. Co jest cięższe: jedno jabłko czy jedna gruszka?



3. Klucz oznaczony najmniejszą liczbą naturalną, która przy dzieleniu przez 2,3,4,5,6,7 daje resztę 1, jest kluczem do książęcego skarbcu. Suma liczb nieparzystych zapisanych na pozostałych kluczach jest szyfrem do sejfu znajdującego się w skarbcu. Czy potrafisz otworzyć książęcy sejf?



4. Szambelan rozlewał miód do beczulek. Ile beczulek każdego rodzaju zapełnił, jeżeli mniejszych beczulek zapełnił o 2 więcej niż większych?



5. Ile waży magik?



75 kg



72 kg



7 kg